
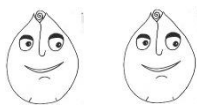

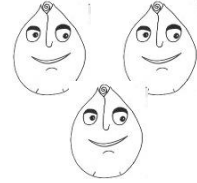








ČJ 	Slabikář do str. 71 Bezpečně čtu slova a věty s Č, Š. Rozhodnu se na základě čteného textu.	
PSANÍ 	Písanka do str. 27 Píšu psacím písmem d. Přepíšu text z tiskacího do psacího písma. Začínám psát perem.	
M 	Matematika do str. 80 Bezpečně sčítám a odčítám do 15. Znázorním polovinu různých předmětů.	
SKN 	Prvouka do str. 63 Zapíšu číslicí, kolik je hodin. Rozlišuji čtvrt, půl, třičtvrtě, celá u času.	
AJ 	Pojmenuji vybrané přírodniny.	

1. **Napiš v písance celou stranu 27.** Můžeš psát perem. Zkoušej, které ti bude vyhovovat.
2. **Přečti a podtrhni názvy jídel černou, názvy zvířat červenou pastelkou.**

Čočka, čolek, koláče, lečo, kačer, rajčata, lívček,
 včela, kočka, čokoláda, kečup, pečivo, červ.

3. Přečti otázky a odpověz:

Co se peče na pekáči? _____

Kdo má černý čumáček? _____

Umí tvoje babička cvičit? _____

4. Nakresli obrázek podle tohoto popisu.

černý mráček

žluté slunce

bílý obláček

červená beruška

kačer

u rybníka

šedá myška

včela na šípku

špinavá voda

5. Vypočítej. U hadů přičítej ve směru šipky.

$11 + 3 =$	<input type="text"/>		$6 + 8 =$	<input type="text"/>		$14 + 0 =$	<input type="text"/>
$7 + 7 =$	<input type="text"/>		$9 + 5 =$	<input type="text"/>		$5 + 8 =$	<input type="text"/>
$12 + 2 =$	<input type="text"/>		$13 + 1 =$	<input type="text"/>		$9 + 4 =$	<input type="text"/>
$14 - 7 =$	<input type="text"/>		$14 - 1 =$	<input type="text"/>		$14 - 14 =$	<input type="text"/>
$14 - 6 =$	<input type="text"/>		$14 - 4 =$	<input type="text"/>		$14 - 11 =$	<input type="text"/>
$14 - 0 =$	<input type="text"/>		$14 - 3 =$	<input type="text"/>		$12 - 5 =$	<input type="text"/>

6. Rozděli.

$\begin{array}{c} 14 \\ / \quad \backslash \\ 10 \quad \square \end{array}$	$\begin{array}{c} 14 \\ / \quad \backslash \\ 7 \quad \square \end{array}$	$\begin{array}{c} 15 \\ / \quad \backslash \\ 12 \quad \square \end{array}$	$\begin{array}{c} 15 \\ / \quad \backslash \\ 8 \quad \square \end{array}$	$\begin{array}{c} 15 \\ / \quad \backslash \\ 10 \quad \square \end{array}$
$\begin{array}{c} 14 \\ / \quad \backslash \\ 3 \quad \square \end{array}$	$\begin{array}{c} 14 \\ / \quad \backslash \\ \square \quad 6 \end{array}$	$\begin{array}{c} 15 \\ / \quad \backslash \\ 11 \quad \square \end{array}$	$\begin{array}{c} 15 \\ / \quad \backslash \\ \square \quad 3 \end{array}$	$\begin{array}{c} 15 \\ / \quad \backslash \\ \square \quad 9 \end{array}$

- Kolik je hodin <https://www.skolasnadhledem.cz/game/1049>

- Hadi https://www.matika.in/cs/test.php?g_idt=660fdac08c3c6

- Čtení s porozuměním, věty https://www.grammar.in/cs/test.php?g_idt=660fdb022d578

